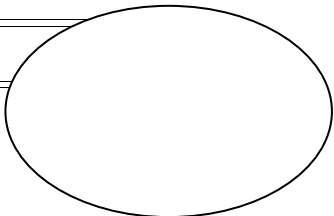


Alumno/a :

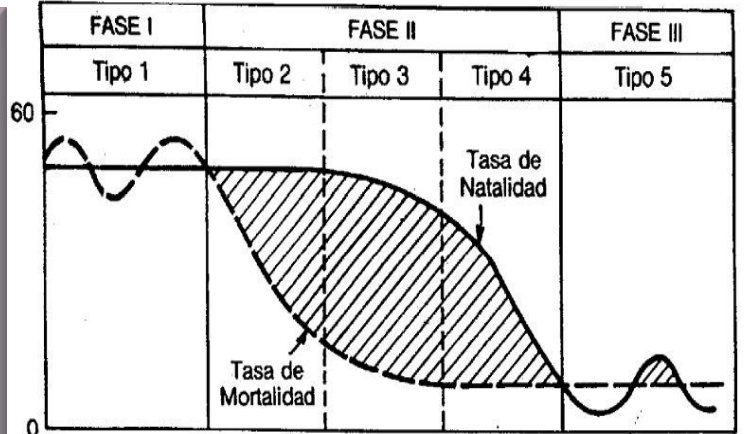
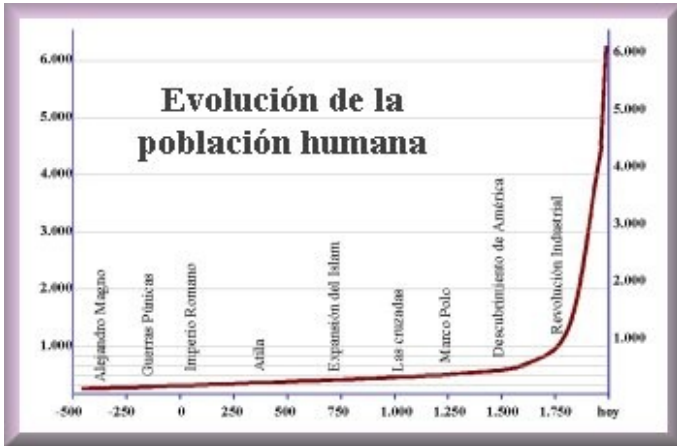
Fecha :

Grupo:

Nº lista



1.COMENTA CADA UNA DE LAS SIGUIENTES IMÁGENES (1 punto cada una)



2. EXPLICA EL SIGUIENTE TEMA (dos puntos)

Impacto medioambiental del sector terciario.

3. ELIGE LA OPCIÓN ADECUADA (5 puntos, 0'5 por pregunta)

1 Cita tres factores que favorezcan el asentamiento de la población en el mundo.

- Climas cálidos, antigüedad de poblamiento y suelos fértiles.
- Climas templados, antigüedad de poblamiento y altitud elevada.
- Climas templados, antigüedad de poblamiento y suelos fértiles.

2 ¿Cómo está repartida la población mundial?

- Está más o menos repartida en los dos hemisferios.
- Mayoritariamente asentada en el hemisferio Sur.
- Mayoritariamente asentada en el hemisferio Norte.

3 Características demográficas que definen a un país desarrollado.

- Baja mortalidad, alta natalidad y alta esperanza de vida.
- Alta natalidad, baja mortalidad y alta esperanza de vida.
- Baja mortalidad, baja natalidad y alta esperanza de vida.

4 ¿Cuáles son los factores que producen una baja mortalidad?

- La incorporación de la mujer en el trabajo.
- La buena alimentación y el desarrollo del sistema sanitario.
- La baja natalidad.

5 ¿En qué fase del modelo de transición demográfica se produce un enorme crecimiento?

- Cuando baja la mortalidad y la natalidad sigue alta.
- Cuando bajan la natalidad y la mortalidad.
- Cuando suben la natalidad y la mortalidad.

6 ¿En qué momento se produce el gran crecimiento poblacional en los países desarrollados?

- Revolución industrial.
- Siglo XVII.
- Siglo XX.

7 ¿Qué es la inmigración?


- La llegada de personas a un país de acogida.
- La salida de personas de un país hacia otro.
- Cualquier movimiento migratorio que se produzca de un país a otro.

8 ¿Qué es la población activa?

- La parte de la población que trabaja.
- La población que está en edad de trabajar (aunque estén en paro).
- El grupo de hombres en edad de trabajar.

9

¿A qué tipo de país pertenece esta pirámide?



- País desarrollado.
- País subdesarrollado.
- País en vías de desarrollo.

10 La definición de esperanza de vida es:

- Media de años de vida de los habitantes de un país.
- Número de nacidos en un año.
- Máximo de años que han vivido los habitantes de un país.